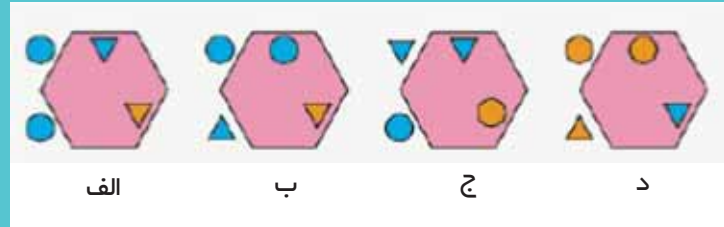
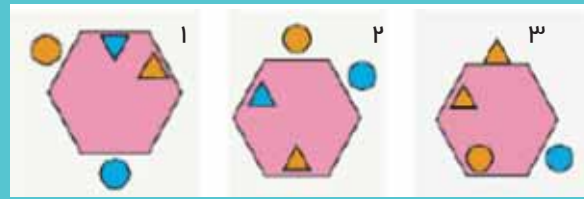


۱- نسبت شکل ۱ به ۲ مثل نسبت ۳ است به؟



۴- کدام قطعه متفاوت است؟
الف



ب



ج



د



ه

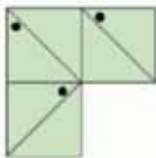
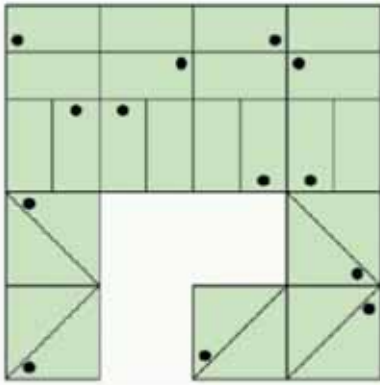


۲. به جای علامت سؤال چه عددی بگذاریم؟

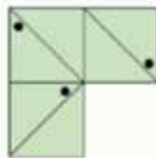
$$۳۸۴۹۲ \rightarrow ۲۸۴۷۳ \rightarrow ۳۶۴۷۲ \rightarrow$$

$$۲۶۴۵۳ \rightarrow ?$$

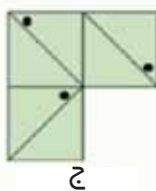
۵. کدام قطعه مربع را کامل می کند؟



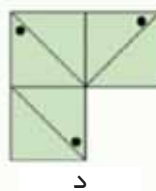
الف



ب



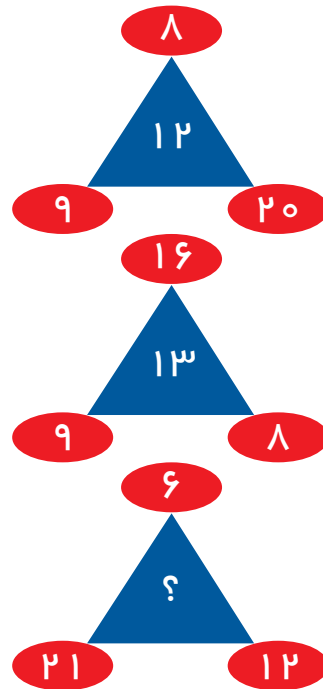
ج



د

۳. به جای علامت سؤال

چه عددی بگذاریم؟



در این مسئله، هر عددی که در یک مثلث قرار دارد، مجموع دو عددی است که در دو گوشه آن قرار دارد. مثلاً: ۱۲ = ۸ + ۴. در این مسئله، هر عددی که در یک مثلث قرار دارد، مجموع دو عددی است که در دو گوشه آن قرار دارد. مثلاً: ۱۲ = ۸ + ۴. در این مسئله، هر عددی که در یک مثلث قرار دارد، مجموع دو عددی است که در دو گوشه آن قرار دارد. مثلاً: ۱۲ = ۸ + ۴.